

PREFEITURA MUNICIPAL DE ADUSTINA, (BA).

EDITAL N.º 01-2024 – CONCURSO PÚBLICO.

PROVA OBJETIVA.

CARGO: TERAPEUTA OCUPACIONAL DA SAÚDE.

Leia atentamente as INSTRUÇÕES:

1. Não será permitido ao candidato realizar as provas usando óculos escuros (exceto para correção visual, ou fotofobia, desde que informe no ato da inscrição), ou portando aparelhos eletrônicos (mesmo desligados), qualquer tipo de relógio, chaves, carteira, bolsa, acessórios que cubram o rosto, a cabeça, ou parte desta.
2. Será eliminado deste Concurso Público, o candidato que fizer uso do celular e/ou aparelho eletrônico, no local onde está ocorrendo o mesmo; o candidato cujo celular e/ou aparelho(s) eletrônico(s), mesmo desligado(s), emitir(em) qualquer som, durante a realização das provas. Durante todo o tempo em que permanecer no local, onde ocorre o Concurso Público, o candidato deverá manter o celular desligado, sendo permitido ativá-lo, somente após ultrapassar o portão de saída do prédio.
3. **Sob pena de ser eliminado deste Concurso Público**, o candidato poderá manter em cima da sua carteira apenas lápis, borracha, caneta, um documento de identificação, lanche (exceto líquido). **Outros pertences**, antes do início das provas, o candidato deverá acomodá-los **embaixo de sua cadeira**, sob sua guarda e responsabilidade.
4. Confira se a sua prova tem **50** questões, cada qual com **5 alternativas**, veja se o cargo para o qual se inscreveu está correto.
5. Verifique seus dados no cartão-resposta (nome, número de inscrição e o cargo para o qual se inscreveu) e **ASSINE** o mesmo.
6. Preencha toda a área do cartão-resposta correspondente à alternativa de sua escolha, com caneta esferográfica (tinta azul, ou preta), sem ultrapassar as bordas. As marcações duplas, rasuradas, ou marcadas diferentemente do modelo estabelecido no cartão-resposta, serão anuladas.
7. Observe as orientações apresentadas no cartão-resposta. O mesmo não será substituído, salvo se contiver erro de impressão.
8. Aguarde a autorização do fiscal para abrir o caderno de provas. Ao receber a ordem, confira-o com muita atenção. Nenhuma reclamação sobre o total de questões, ou falha de impressão, será aceita depois de iniciada a prova. Cabe apenas ao candidato a interpretação das questões, o fiscal não poderá fazer nenhuma interferência.
9. A Prova Objetiva terá duração máxima de **3h (três horas)**, incluso o tempo destinado ao preenchimento do cartão-resposta.
10. O candidato poderá se retirar do local da prova somente **1h (uma hora)** após seu início, levando seu caderno de prova.
11. Ao terminar sua prova, o candidato deverá entregar ao fiscal de sala o cartão-resposta preenchido, assinado e retirar-se do recinto, onde está ocorrendo a mesma, não lhe sendo mais permitido o uso do banheiro e bebedouro.
12. Os **3 (três)** candidatos, que terminarem a prova por último, deverão permanecer na sala, só poderão sair juntos, após o fechamento do envelope, contendo os cartões-respostas dos candidatos presentes e ausentes, assinarem no referido envelope, atestando que este foi devidamente lacrado.

BOA PROVA!

LÍNGUA PORTUGUESA.

Leia o texto para responder às próximas cinco questões.

Detalhes. (Roberto Carlos).

Não adianta nem tentar me esquecer,
Durante muito tempo em sua vida
Eu vou viver.
Detalhes tão pequenos de nós dois,
São coisas muito grandes pra esquecer
E a toda hora, vão estar presentes,
Você vai ver.
Se um outro cabeludo aparecer na sua rua
E isto lhe trouxer saudades minhas,
A culpa é sua.
O ronco barulhento do seu carro,
A velha calça desbotada, ou coisa assim,
Imediatamente você vai lembrar de mim.
Eu sei que um outro deve estar falando ao seu ouvido,
Palavras de amor como eu falei, mas eu duvido,
Duvido que ele tenha tanto amor
E até os erros do meu português ruim
E nessa hora você vai lembrar de mim.
À noite, envolvida no silêncio
Do seu quarto,
Antes de dormir, você procura
O meu retrato,
Mas da moldura não sou eu quem lhe sorri,
Mas você vê o meu sorriso mesmo assim
E tudo isso, vai fazer você
Lembrar de mim.
Se alguém tocar seu corpo como eu,
Não diga nada,
Não vá dizer meu nome, sem querer,
À pessoa errada,
Pensando ter amor nesse momento,
Desesperada você tenta até o fim,
E até nesse momento, você
Vai lembrar de mim.
Eu sei que esses detalhes vão sumir
Na longa estrada,
Do tempo que transforma todo amor
Em quase nada,
Mas quase também é mais um detalhe.
Um grande amor, não vai morrer assim,
Por isso, de vez em quando, você vai,
Vai lembrar de mim.
Não adianta nem tentar me esquecer,
Durante muito, muito, muito tempo, em sua vida,
Eu vou viver.
Não, não adianta nem tentar,
Me esquecer.

01. Com base na leitura do texto, marque a alternativa incorreta.

- a) De acordo com o texto, o eu poético relata que os detalhes pequenos dos dois, são coisas muito grandes para esquecer.
- b) O eu poético fala, que se alguém aparecer e a pessoa tiver saudades dele, a culpa será só dela.
- c) O eu lírico afirma para seu ente amado, que não adianta nem tentar esquecê-lo e que durante muito tempo em sua vida, ele viverá.
- d) Pela leitura do texto, entende-se que mesmo um grande amor é capaz de morrer e que a pessoa amada, nunca mais se lembrará do eu lírico.
- e) Referindo-se à leitura do texto, fica claro, o autor no final, afirmar: “Durante muito, muito, muito tempo, em sua vida, eu vou viver.

02. Em se tratando de encontros vocálicos, as palavras do texto (muito, saudades, noite) são respectivamente:

- a) Hiato, hiato, hiato.
- b) Ditongo, ditongo, ditongo.
- c) Ditongo, ditongo, hiato.
- d) Hiato, hiato, ditongo.
- e) Hiato, ditongo, ditongo.

03. No período do texto “Detalhes tão pequenos de nós dois / São coisas muito grandes pra esquecer / E a toda hora vão estar presentes”. A oração grifada é:

- a) Coordenada assindética.
- b) Coordenada sindética explicativa.
- c) Coordenada sindética adversativa.
- d) Coordenada sindética conclusiva.
- e) Coordenada sindética aditiva.

04. Marque a alternativa devida, de acordo com a correta separação de sílabas, das palavras do texto, (ouvido, silêncio, coisas).

- a) Ou-vi-do / si-lên-ci-o / coi-sas.
- b) O-u-vi-do / si-lên-ci-o / coi-sas.
- c) Ou-vi-do / si-lên-cio / coi-sas.
- d) Ou-vi-do / si-lên-cio / co-i-sas.
- e) O-u-vi- do / si-lên- ci-o / co-i-sas.

05. De acordo com o texto, pode-se compreender que a expressão “desesperada” significa:

- a) Consolada.
- b) Esperançosa.
- c) Confiante.
- d) Abalada.
- e) Aliviada.

06. Quanto ao correto uso do hífen, marque a alternativa indevida.

- a) Anti-higiênico.
- b) Auto-observação.
- c) Auto-suficiente.
- d) Pan-africano.
- e) Bem-arrumado.

07. Em sintaxe, quanto aos termos da oração, relacione a Coluna I com a Coluna II e marque a alternativa devida.

Coluna I.

- A- Agente da passiva.**
- B- Adjunto adnominal.**
- C- Sujeito.**
- D- Predicativo.**

Coluna II.

1- É o elemento do predicado com o qual se atribui qualidade ou estado ao sujeito ou ao objeto, mediante verbo de ligação ou não.

2- É a parte da oração sobre a qual se declara alguma coisa.

3- É a expressão que se refere a um substantivo, determinando-o ou caracterizando-o.

4- É o termo que se refere a um verbo na voz passiva, com auxílio de preposição.

a) A (1) – B (2) – C (4) – D (3).

b) A (3) – B (4) – C (2) – D (1).

c) A (4) – B (3) – C (2) – D (1).

d) A (2) – B (1) – C (3) – D (4).

e) A (3) – B (4) – C (1) – D (2).

08. Aludindo-se à versificação, leia os itens, veja os tipos de rima e assinale a alternativa correspondente.

I- Aguda: entre palavras oxítonas, ou monossílabas tônicas.

II- Grave: entre palavras paroxítonas.

III- Esdrúxula: entre palavras proparoxítonas.

IV- Perfeita: igualdade total entre sons vocálicos e consonantais.

a) Apenas I e IV estão corretos.

b) Apenas II e IV estão corretos.

c) Apenas I, II e III estão corretos.

d) Todos os itens estão corretos.

e) Apenas II e III estão corretos.

09. Sobre Língua Materna, marque (V) verdadeiro ou (F) falso e assinale a alternativa correta.

() Língua Materna: A expressão vem de uma época quando as crianças eram alfabetizadas maioritariamente em casa, pelas mães.

() É a primeira língua que a criança aprende, podendo ser chamada também de língua nativa e corresponde ao grupo étnico-linguístico que a criança se identifica culturalmente.

() O falante nativo, ou de língua materna, possui uma forte ligação cultural e de identidade com sua comunidade e meio.

() Ser um falante nativo, significa ser linguisticamente próximo a outros falantes, à língua comum de qualquer comunidade, seja de uma família, cidade, tribo, povoado, região, ilha, país.

() Com relação a competência do falante nativo, ele tem noção de automaticidade, sendo totalmente capaz de assimilar de forma automática e familiar, todos os recursos estruturais do código linguístico.

a) V – F – V – F – V.

b) V – V – F – F – V.

c) V – F – V – V – F.

d) V – V – V – V – V.

e) F – V – V – V – F.

10. Em se tratando de representante e escola literária, marque a alternativa incorreta.

a) Visconde de Taunay, (Romantismo).

b) Machado de Assis, (Realismo).

c) Raimundo Correia, (Parnasianismo).

d) Cruz e Sousa, (Simbolismo).

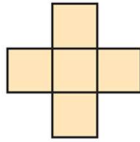
e) Joaquim Manuel de Macedo, (Naturalismo).

MATEMÁTICA E RACIOCÍNIO LÓGICO.

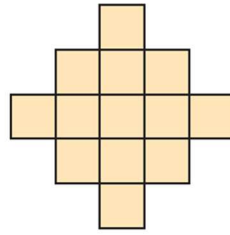
11. Considere a seguinte sequência de figuras, ela começa por um quadrado. Então, em cada etapa, quadrados são fixados ao redor da parte externa da figura.



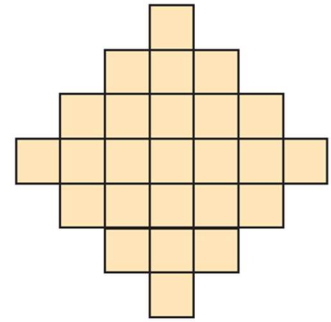
Etapa 1



Etapa 2



Etapa 3



Etapa 4

Com base no padrão observado nessa sequência de figuras, qual o número de quadrados na figura da Etapa 7?

- a) 53.
- b) 61.
- c) 79.
- d) 85.
- e) 113.

12. Considere a seguinte proposição: **Se não chover, então Dona Florinda rega as plantas.** Qual a negação dessa proposição?

- a) Se chover, então, Dona Florinda rega as plantas.
- b) Se chover, então, Dona Florinda não rega as plantas.
- c) Se não chover, então, Dona Florinda não rega as plantas.
- d) Chove e Dona Florinda rega as plantas.
- e) Não chove e Dona Florinda não rega as plantas.

13. Considere a sequência, formada pelas letras da palavra **ADUSTINENSE**, nessa ordem. **ADUSTINENSEADUSTINENSEADUSTINENSE...**

Qual é a 158ª letra dessa sequência?

- a) D.
- b) U.
- c) S.
- d) T.
- e) E.

14. De acordo com os resultados divulgados do Censo de 2022 pelo Instituto Brasileiro de Geografia e Estatística, (IBGE), a população da Cidade de Adustina, (BA), chegou a 14.201 habitantes, em 2022. Ainda, segundo o IBGE, em 2022, a área do Município era de 629,099 km², o que o coloca na posição 241 de 417 entre os municípios do Estado da Bahia.

Disponível em: <https://cidades.ibge.gov.br/brasil/ba/adustina/panorama>. Acesso em: 12 fev. 2024.

A densidade demográfica é um indicador populacional que mede a relação entre a população absoluta e a extensão territorial. Para medir a concentração da população de determinada área, calcula-se sua densidade demográfica: divide-se o total da população pela área territorial. Esse valor é expresso pelo número de habitantes por quilômetro quadrado (hab./km²). Assim, a partir dos dados apresentados pelo IBGE, a densidade demográfica de Adustina, (BA), em 2022, era de:

- a) 18,40 hab./km².
- b) 20,55 hab./km².
- c) 22,57 hab./km².
- d) 24,75 hab./km².
- e) 28,52 hab./km².

15. A reta r passa pelo ponto $(6,4)$ e tem coeficiente angular igual a $3/2$. O ponto de intersecção da reta r com o eixo OY tem ordenada igual a:

- a) -5 .
- b) -3 .
- c) -1 .
- d) 0 .
- e) 1 .

16. Uma lata de doce de coco cremoso tem formato cilíndrico, com 9 cm de diâmetro e 10 cm de altura. Qual é, aproximadamente, a capacidade dessa lata?

Use 3,14 como aproximação para π .

- a) $500,25 \text{ cm}^3$.
- b) $540,75 \text{ cm}^3$.
- c) $600,80 \text{ cm}^3$.
- d) $635,85 \text{ cm}^3$.
- e) $675,50 \text{ cm}^3$.

17. Um quadrado mágico é uma tabela quadrada de números em que a soma (soma mágica ou constante mágica) dos números de cada linha, cada coluna e nas duas diagonais é sempre igual, sendo que nenhum dos números se repete. Um quadrado mágico de ordem 3 pode ser formado a partir dos nove termos de uma Progressão Aritmética (P.A.). No quadrado mágico de ordem 3, o termo central do quadrado corresponde ao termo médio da P.A. Considere a P.A. $(3, 8, \dots)$ de nove termos, que será usada para formar um quadrado mágico de ordem 3. Na metade da primeira linha do quadrado mágico, escreve-se número 3 (primeiro termo da P.A.) e na casa mais baixa da terceira coluna, escreve-se o número 8 (segundo termo da P.A.), como mostrado a seguir.

	3	
x		
		8

Adaptado de: Revista do Professor de Matemática. PAINEL IV. BARROS, Augusto M. de. O Método Hindu para a construção de quadrados mágicos. RPM n.º 103, 1º semestre, ano 40, 2021, p. 17-20.

Sabendo-se que no quadrado mágico de ordem 3 apresentado, a constante mágica é igual a 69. Qual número deve ocupar a casa identificada pela letra x?

- a) 13.
- b) 23.
- c) 33.
- d) 28.
- e) 38.

18. Considere a Progressão Geométrica infinita $(8, 6, \dots)$. A soma dos infinitos termos dessa Progressão Geométrica converge para:

- a) 21.
- b) 24.
- c) 28.
- d) 32.
- e) 36.

19. Um poliedro convexo tem uma face pentagonal e cinco faces triangulares. Se esse poliedro possui 6 vértices, então o número de arestas desse poliedro é:

- a) 6.

- b) 8.
- c) 10.
- d) 12.
- e) 14.

20. Quantos são os anagramas da palavra BAHIA, que iniciam e terminam por vogal?

- a) 12.
- b) 18.
- c) 24.
- d) 36.
- e) 60.

LEGISLAÇÃO BÁSICA E CONHECIMENTOS GERAIS.

21. Verifique o recorte da notícia a seguir e, de acordo com a referida notícia, assinale a alternativa que completa corretamente a lacuna.

“Após falha no site do [...], aprovados 'perdem' vaga no dia seguinte: 'Já tinha comemorado nas redes', diz aluna.

Resultados foram divulgados na terça-feira, (30), mas site do [...] saiu do ar. MEC alegou "falha técnica" e adiou a publicação. No dia seguinte, alunos que achavam que tinham passado, ficaram de fora da lista final.

Na manhã de terça-feira, (30), Khauany Freitas, de 18 anos, entrou no site do _____ e viu a mensagem com que tanto sonhava: "Parabéns, você foi selecionada na chamada regular".

[...]
Até que houve uma reviravolta: assim como outros candidatos, por um erro do Ministério da Educação, (MEC), Khauany "perdeu" a vaga no dia seguinte.

Disponível em: <https://g1.globo.com/educacao/noticia/2024/02/01/apos-falha-no-sisu-aprovados-perdem-vaga-no-dia-seguinte-ja-tinha-comemorado-nas-redes-diz-aluna.ghtml>

Publicada em: 01 fev. 2024.

- a) Sistema de Seleção Unificada, (Sisu)
- b) Sistema de Substituição Unificada, (Sisu)
- c) Sistema de Segmento Unificado, (Sisu)
- d) Seleção de Sujeitos Universitários, (Sisu)
- e) Sistema Semântico de Universitários, (Sisu)

22. Realize a leitura do trecho da notícia publicada no dia 22 de outubro de 2023 pelo site UOL: Raicca Ventura acerta a última volta e conquista prata no skate do Pan 2023.

[...]
Aos 16 anos, Raicca Ventura conquistou a medalha de prata no skate park nos _____ . A brasileira sofreu com quedas nas primeiras tentativas e alcançou sua melhor nota na volta final.

Disponível em: <https://www.uol.com.br/esporte/ultimas-noticias/2023/10/22/final-skate-park-feminino.htm>

Segundo a referida notícia a medalha de prata no skate park foi conquistada nos:

- a) Jogos Pan-Americanos de Lima
- b) Jogos Pan-Americanos de Santiago
- c) Jogos Pan-Americanos de Toronto
- d) Jogos Pan-Americanos de Guadalajara
- e) Jogos Pan-Americanos de Porto Rico

23. Leia o fragmento de notícia disponível na página da BBC News Brasil e marque a alternativa que completa, corretamente, a lacuna.

“A combinação climática que está secando os rios da Amazônia

[...]

As cenas são chocantes. Rios e igarapés secos e fumaça de queimada subindo pelo céu amazônico.

Manaus, capital do Amazonas encravada no meio da floresta, ficou recentemente encoberta por uma nuvem espessa de fumaça causada por queimadas no entorno da cidade.

A pouco mais de 500 quilômetros dali, _____ assustam e preocupam moradores.

Cientistas, ambientalistas e representantes do governo federal avaliam que esses dois eventos podem ter relação com um fenômeno que vem preocupando a comunidade científica e os milhões de habitantes da região: a estiagem severa que atinge a Amazônia, especialmente a chamada Amazônia Ocidental, composta pelos Estados do Amazonas, Rondônia, Acre e Roraima”.

Disponível em: <https://www.bbc.com/portuguese/articles/c0405z32d13o>

Publicada em: 16 out. de 2023.

- a) carcaças de peixes espalhadas pelo leito seco do Rio Acaraú na capital do Amazonas
- b) carcaças de peixes no leito seco da Lagoa dos Tambaquis na capital do Amazonas
- c) carcaças de botos espalhadas pelo Rio Capibaribe
- d) carcaças de botos espalhadas pelo leito seco do Rio Punaú
- e) carcaças de botos espalhadas pelo leito seco de um lago no interior da Amazônia

24. De acordo com o site do Instituto Brasileiro de Geografia e Estatística, (IBGE), Adustina, (BA), está localizada na Mesorregião:

- a) Centro Ocidental.
- b) Leste Alagoano.
- c) Nordeste Baiano.
- d) Centro Sul Baiano.
- e) Centro Norte Baiano.

25. Leia o seguinte texto.

“Ao pé de uma ladeira íngreme de pedras irregulares, circundado por mangueiras imponentes, banhado pelas ondas do mar e premiado pelo mais belo pôr do sol da cidade de Salvador. É neste belíssimo cartão postal chamado Solar do Unhão que se encontra o [...], considerado o principal espaço para a arte contemporânea do estado e um dos mais importantes do país, por onde passa um público aproximado de 200 mil pessoas por ano”.

Disponível em: <http://www.mam.ba.gov.br/sobre-o-mam/>

O nome do Museu, de acordo com o texto é:

- a) Museu de Arte Moderna da Bahia, (MAM-BA)
- b) Museu dos Artistas Modestos da Bahia, (MAM-BA)
- c) Museu de Arte Niemeyer da Bahia, (MAN-BA)
- d) Museu de Arte Contemporânea da Bahia, (MAC-BA)
- e) Museu Artístico Mário Quintana da Bahia, (MAM-BA)

26. De acordo com o art. 5º , da Lei Orgânica do Município de Adustina, (BA), Capítulo III, Dos Bens Municipais, são bens municipais:

I- Apenas bens móveis de seu domínio pleno, direto ou útil;

II- Direitos e ações que a qualquer título pertençam ao município;

III- Águas fluentes, emergentes e em depósito, localizadas em seu território e nos territórios das cidades vizinhas;

IV- Renda proveniente do exercício de suas atividades e da prestação de serviços.

Assinale a alternativa verdadeira.

- a) Todas as assertivas estão corretas.
- b) Apenas as assertivas I, II e III estão corretas.
- c) Apenas as assertivas II, III e IV estão corretas.
- d) Apenas as assertivas II e IV estão corretas.
- e) Apenas as assertivas III e IV estão corretas.

27. Segundo o art. 11 da Lei Orgânica do Município de Adustina, (BA), é da competência do Município em comum com a União e o Estado:

- () Zelar pela guarda da Constituição Federal, da Constituição Estadual e das Leis destas esferas de Governo, das instituições democráticas e conservar o patrimônio público;**
- () Cuidar da saúde e assistência pública, da proteção e garantia das pessoas portadoras de deficiência;**
- () Proteger os documentos, as obras e outros bens de valor histórico, artístico e cultural, os monumentos, as paisagens naturais notáveis e os sítios arqueológicos;**
- () Impedir a evasão, destruição e a descaracterização de obras de arte e de outros bens de valor histórico, artístico e cultural.**

Conforme a referida Lei Orgânica atribua (C) para certo e (E) para errado, depois assinale a alternativa com a sequência correta.

- a) C – C – C – C.
- b) C – E – C – C.
- c) E – C – C – E.
- d) C – C – E – E.
- e) E – E – E – E.

28. Assinale a alternativa que compõe todos os fatores descritos no art. 20, da Lei Complementar n.º 211, de 18 de Abril de 2016, que cria o Novo Estatuto dos Servidores Públicos Cíveis do Município de Adustina e dá outras providências:

“Ao entrar em exercício, o servidor nomeado para cargo de provimento efetivo ficará sujeito a estágio probatório por período de 03 (três) anos, durante o qual a sua aptidão e capacidade serão objeto de avaliação para o desempenho do cargo, observados os seguinte fatores:”

- a) Assiduidade, disciplina, comportamento eficaz e produtividade.
- b) Conhecimento, disciplina, capacidade de agrupamento e responsabilidade.
- c) Assiduidade, habilidade emocional, capacidade comportamental e produtividade.
- d) Assiduidade, flexibilidade, capacidade de iniciativa, produtividade e proatividade.
- e) Assiduidade, disciplina, capacidade de iniciativa, produtividade e responsabilidade.

29. De acordo com a Lei Complementar n.º 211, de 18 de Abril de 2016, que cria o Novo Estatuto dos Servidores Públicos Cíveis do Município de Adustina e dá outras providências, relacione as colunas e escolha a alternativa com a ordem correta.

Coluna I.

A- Readaptação.

B- Reversão.

C- Reintegração.

Coluna II.

1- () É a reinvestidura do servidor estável no cargo anteriormente ocupado, ou no cargo resultante de sua transformação, quando invalidada a sua demissão por decisão administrativa ou judicial, com ressarcimento de todas as vantagens.

2- () O retorno à atividade de servidor aposentado.

3- () É a investidura do servidor em cargo de atribuições e responsabilidades compatíveis com a limitação, que tenha sofrido em sua capacidade física ou mental, verificada através de relatório de um médico especialista da área e de um médico do trabalho.

- a) A (1) – B (3) – C (2).
- b) A (3) – B (2) – C (1).
- c) A (2) – B (1) – C (3).
- d) A (3) – B (1) – C (2).
- e) A (1) – B (2) – C (3).

30. Levando em consideração a Lei n.º 1, de 14 de setembro de 2022, que dispõe sobre a Reestruturação Organizacional do Poder Executivo do Município de Adustina e dá outras providências, assinale a alternativa que não está de acordo com o estipulado na referida Lei.

- a) Art. 1º: O objetivo desta Lei é a reestruturação político-administrativa do Poder Executivo do

Município de Adustina, a fim de aperfeiçoar a gestão e os serviços públicos, principalmente, através da reconfiguração dos órgãos, cargos, funções e diretrizes normativas.

b) Art. 2º: O Poder Executivo é chefiado pelo Prefeito do Município, que o administra na forma da lei, auxiliado pelo Vice-Prefeito, secretários, e demais agentes públicos municipais, no exercício das suas respectivas atribuições e competências.

c) Art. 3º: A Administração Municipal, para efeito desta Lei, compreende a administração direta e a indireta, que venha a ser criada por lei específica.

d) Art. 6º: Os dirigentes dos órgãos subordinados diretamente ao Prefeito do Município, devem promover, após a primeira quinzena do mês de agosto de cada ano, a elaboração do Plano de Metas para o Ano de exercício - PMA, planejando o conjunto de ações a serem executadas no próximo ano, assim como o Relatório dos Resultados Alcançados do Ano em curso - RRA, identificando o que efetivamente foi realizado, divulgando-os parcialmente, na forma de regulamento próprio.

e) Art. 7º: Todos os órgãos do Município devem atuar de forma articulada entre si, em regime de mútua colaboração, visando a oferecer informações, sugestões e dados que melhorem a prestação dos serviços.

CONHECIMENTOS ESPECÍFICOS.

31. Quem é considerado/a o/a fundador/a da terapia ocupacional e que cita a frase "Se há uma doença ocupacional, por que não uma terapia ocupacional?" (p. 186)?

- a) Nise da Silveira.
- b) George Edward Barton.
- c) Eleanor Clarke Slagle.
- d) Philippe Pinel.
- e) William Rush Dunton Jr.

32. Existe a Resolução do Coffito n.º 425, de 08 de julho de 2013 – (D.O.U. n.º 147, Seção 1, de 01/08/2013). Sendo assim, qual é o principal objetivo do Conselho de Ética e Deontologia da Terapia Ocupacional?

- a) Corresponder a todas as predileções políticas dos terapeutas ocupacionais.
- b) Assegurar e zelar pela ética e a conduta dos terapeutas ocupacionais.
- c) Gerar meios para o avanço da pesquisa em todas as especialidades de Terapia Ocupacional reconhecida pelo COFFITO, (Conselho Federal de Fisioterapia e Terapia Ocupacional).
- d) Apoiar o desenvolvimento profissional dos terapeutas ocupacionais.
- e) Instigar para atualização e aperfeiçoamento dos conhecimentos técnicos e científico dos terapeutas ocupacionais.

33. A abordagem do Modelo Funcional Ocupacional, (MFO), é utilizada para compreender as habilidades ocupacionais de uma pessoa interagindo com o meio onde está vivendo e as demandas ocupacionais que aparecem. Desta maneira é fundamentado, na teoria ocupacional e no modelo de ocupação humana, entender de que modo a participação na ocupação interfere na saúde, comodidade, bem-estar na vida das pessoas. Posto isso, qual dos seguintes elementos não contempla o componente central do MFO?

- a) Avaliação das habilidades ocupacionais do indivíduo.
- b) Identificação das demandas ocupacionais do ambiente.
- c) Análise do histórico médico do paciente.
- d) Intervenção para facilitar o desempenho ocupacional.
- e) Incluir de forma satisfatória em papéis valorizados por meio da restauração do alto desempenho.

34. Falando sobre desenvolvimento motor, ele varia de criança para criança, mas se tem tempo máximo, sendo assim deve ser acompanhado por profissional habilitado, caso haja algum atraso. O terapeuta ocupacional pode identificar atrasos no desenvolvimento e na primeira infância, se faz importante, estimular de forma adequada. Sendo assim, o que a criança deve ter de repertório entre os 05 e 06 meses?

- a) Começa a dar os primeiros passos.

- b) Levanta a cabeça e o peito em posição prona.
- c) Leva as mãos na boca com frequência.
- d) Rola por completo, senta-se com apoio ou breve apoio.
- e) Senta sem apoio e engatinha.

35. Maria, uma mulher de 45 anos, tem se queixado de falta de ar, recentemente. Ela nota que, mesmo em atividades leves, como subir escadas, sente dificuldade para respirar. Além disso, ela apresenta tosse persistente e produção de muco espesso. Maria é ex-fumante, tendo parado de fumar há cerca de 10 anos.

Histórico Médico:

Maria sempre sentiu muita fraqueza desde sua infância. Além disso, muito cansaço e falta de ar, mas não teve episódios significativos na vida adulta.

Hábitos de Vida:

Maria é moderadamente ativa, realiza caminhadas regulares e mantém uma dieta equilibrada. Ela não tem histórico de exposição a poluentes ambientais significativos no trabalho ou em casa.

Exame Físico:

Durante o exame físico é observada a presença de cianose nos lábios e unhas de Maria. A ausculta dos pulmões revela chiado e crepitações em algumas áreas.

Através do enunciado é possível notar que há presença de cianose, desta maneira, o que essa presença sugere sobre o sistema respiratório de Maria?

- a) Baixa saturação de oxigênio no sangue.
- b) Excesso de dióxido de carbono no sangue.
- c) Anemia.
- d) Problemas no coração.
- e) Exposição a substâncias tóxicas.

36. Lucas começou a experimentar uma perda gradual da visão em ambos os olhos. Qual órgão sensorial pode estar envolvido nesse problema?

- a) Orelha interna.
- b) Olhos.
- c) Nariz.
- d) Língua.
- e) Pele.

37. Em um movimento onde o indivíduo tem a intenção de levar um copo de água à boca fazendo com que ocorra a flexão do cotovelo, qual músculo é considerado o antagonista?

- a) Bíceps braquial.
- b) Tríceps braquial.
- c) Deltoides.
- d) Supraespinhoso.
- e) Latíssimo do dorso.

38. Como o ambiente familiar pode influenciar o desenvolvimento cognitivo de uma criança?

- a) Através de baixos níveis interativos e de envolvimento sócio emocional entre adultos e crianças, presença de controle punitivo e restritivo, e níveis mínimos de organização familiar.
- b) Com o único determinante crítico para o desenvolvimento cognitivo infantil, sendo a presença de brinquedos educativos.
- c) Por meio de uma variedade de experiências perceptivas com pessoas, objetos e símbolos, que influenciarão para o desenvolvimento cognitivo das crianças, observando-se consequências positivas em longo prazo.
- d) Independentemente das interações familiares, a quantidade de tempo que a criança passa assistindo a televisão, pode ser a principal influência no desenvolvimento cognitivo.
- e) Tornando o ambiente familiar em segundo plano, a genética é o fator dominante no desenvolvimento cognitivo.

39. As formas de inserção social tendem a passar por várias mudanças ao longo das diferentes fases da vida de um indivíduo. Portanto:

- a) Com pouca importância dada às relações pessoais, na fase adulta, a inserção social é, exclusivamente, moldada pelo sucesso financeiro e pela posição social.
- b) Na meia-idade, a participação em grupos sociais, como clubes ou organizações com interesses compartilhados, pode desempenhar um papel significativo.
- c) Enquanto as interações diretas têm pouca influência, na infância e adolescência a inserção social é, principalmente, determinada pela exposição a mídias sociais.
- d) Com pouca ênfase nas relações face a face, na velhice, a inserção social é, predominantemente, mantida através de interações on-line.
- e) Com prioridades de se concentrar apenas na carreira e na busca de sucesso profissional, durante a meia-idade, as amizades são geralmente negligenciadas.

40. Que estratégia pode melhorar a acessibilidade em espaços públicos para pessoas com deficiência?

- a) Reduzir a iluminação para criar um ambiente mais acolhedor.
- b) Remover todas as barreiras arquitetônicas.
- c) Proibir o acesso de pessoas com deficiência para evitar acidentes.
- d) Implementar designs complexos para melhorar a estética.
- e) Ignorar a necessidade de sinalizações claras.

41. Mariana, vive sozinha em sua casa, é uma idosa de 75 anos, recentemente diagnosticada com artrite reumatoide, que afeta sua mobilidade e independência. Logo, expressou preocupações sobre a capacidade de gerenciar suas atividades diárias. O médico recomendou a implementação de orientação e intervenção domiciliar, incluindo a possibilidade de participação em um grupo terapêutico. O que deve ser considerado no planejamento eficaz de intervenções domiciliares para Mariana e o que ela pode esperar como benefício ao participar de um grupo terapêutico?

- a) Ignorar as necessidades individuais do paciente e solidão.
- b) Exclusivamente oferecer tratamento médico e alta tensão emocional.
- c) Considerar o ambiente doméstico, as necessidades específicas do paciente e fortalecimento do senso de comunidade.
- d) Limitar as opções terapêuticas disponíveis e diminuição da autoconsciência.
- e) Deletar a participação da família no processo de cuidado e limitar no compartilhamento de experiências.

42. Para medir o desempenho funcional em atividades diárias, qual é o método mais apropriado em uma avaliação?

- a) Técnica observacional por um profissional de saúde.
- b) Autoavaliação do indivíduo.
- c) Relatos verbais de colegas de trabalho.
- d) Basear-se apenas em medidas biométricas.
- e) Avaliação retrospectiva por familiares.

43. Quais seriam os primeiros passos em avaliação inicial na saúde mental, para determinar suas necessidades e metas no tratamento terapêutico ocupacional?

- a) Relevar a história clínica e focar apenas nas queixas atuais, rotina diária e objetivos pessoais.
- b) Realizar uma avaliação cognitiva exclusiva.
- c) Considerar apenas as habilidades cognitivas.
- d) Explorar a história clínica, rotina diária e objetivos pessoais.
- e) Conhecer só o cotidiano.

44. Ana tem 56 anos, faz 3 meses que sofreu um acidente vascular cerebral, (AVC). Ela teve uma hemorragia cerebral no lado esquerdo do cérebro, ocasionando em debilitação

expressiva no lado direito do corpo. Ana era uma mulher ativa, que gostava muito de se cuidar, trabalhava como recepcionista numa empresa, além de ter seus grupos sociais que encontrava nos finais de semana, ela mora sozinha em um apartamento no centro da cidade. Sendo assim, quais são os principais sinais de alerta para qualquer tipo de AVC?

- a) Fraqueza ou formigamento na face, no braço ou na perna, especialmente em um lado do corpo; confusão mental; alteração da fala ou compreensão; alteração na visão (em um ou ambos os olhos); alteração do equilíbrio, coordenação, tontura ou alteração no andar.
- b) Alterações na memória, na personalidade e nas habilidades visuais e espaciais; confusão mental; alteração da fala ou compreensão; alteração na visão (em um ou ambos os olhos); alteração do equilíbrio, coordenação, tontura ou alteração no andar.
- c) Alteração da fala ou compreensão; tosse, dor de garganta e coriza, seguido ou não de anosmia, ageusia, diarreia, dor abdominal, febre, calafrios, mialgia, fadiga e/ou cefaleia fraqueza; ou formigamento na face.
- d) Diarreia; náuseas e vômitos; confusão mental; alteração da fala ou compreensão; alteração na visão (em um ou ambos os olhos); tontura ou alteração no andar.
- e) Fraqueza ou formigamento na face, no braço ou na perna, especialmente em um lado do corpo; confusão mental; alteração da fala ou compreensão; alteração na visão (em um ou ambos os olhos); diarreia com aspecto aquoso, gorduroso e explosivo; febre alta.

45. Sofia nasceu de 32 semanas com baixo peso e apresenta dificuldades respiratórias, encontra-se na unidade de terapia intensiva neonatal, (UTIN), que tem suporte tanto nutricional quanto respiratório. A equipe multi se encontra preocupada com o desenvolvimento motor e neurossensorial, por conta do estado de saúde dela ser delicado. Deste modo, com bebês prematuros na UTIN, qual a principal intervenção que se faz?

- a) Promover o desenvolvimento neurossensorial.
- b) Estimulação sensorial através do toque terapêutico.
- c) Acolhimento da família que está acompanhando a bebê.
- d) Promover o desenvolvimento motor.
- e) Garantir o conforto físico apenas.

46. Seu José está com 72 anos, tem diagnóstico de câncer de pulmão em estágio avançado. Encontra-se em cuidados paliativos por motivo à progressão da doença, sintomas tanto físicos quanto emocionais. José trabalhou desde cedo, como contador, muito proativo. Atualmente, mora sozinho em apartamento, mas hoje tem assistência diária para suas atividades do cotidiano, devido às complicações de saúde. Tem dificuldade para respirar, ansiedade e depressão, isolamento social devido a ter pouca mobilidade, dificuldade para dormir por conta da dor.

No caso do paciente José, qual é o principal objetivo da intervenção da terapia ocupacional? Para lidar com a falta de ar e a dor, quais meios podem ser ensinados?

Assinale a alternativa que corresponde de forma respectiva as perguntas feitas acima.

- a) Aumentar a mobilidade. Técnicas de meditação.
- b) Melhorar a qualidade de vida e o bem-estar emocional. Técnicas de respiração e posicionamento adequado.
- c) Aumentar a mobilidade. Técnicas de meditação.
- d) Reduzir a dor física. Técnicas de respiração e posicionamento adequado.
- e) Melhorar a qualidade de vida e o bem-estar emocional. Técnica de respiração e meditação

47. Dona Célia tem 55 anos, já tem seu diagnóstico há 10 anos de artrite reumatoide. Ela tem relato de dor e também de rigidez nas articulações, sendo de forma principal nas mãos e nos joelhos, o que complica nas suas atividades de vida diárias. Dona Célia descreve que está difícil realizar as atividades em casa, tais como abrir potes, limpar a casa, lavar as louças e vestir-se. Ela também relata que se encontra desanimada, cabisbaixa, devido às limitações motivadas pela doença.

Sendo assim, qual é o principal objetivo da terapia ocupacional no tratamento de pacientes com artrite reumatoide?

Quais são as principais estratégias de intervenção que podem ser utilizadas pela terapia ocupacional para contribuir com a Dona Célia lidar com suas limitações atuais?

Marque a alternativa correta.

- a) Adaptação do ambiente e uso de dispositivos auxiliares. Aliviar a dor com medicamentos analgésicos.
- b) Promover o bem-estar emocional e mental do paciente. Ensino de técnicas de relaxamento e respiração.
- c) Aumentar a mobilidade das articulações afetadas. Adaptação do ambiente e uso de dispositivos auxiliares.
- d) Melhorar a força muscular por meio de exercícios. Realização de exercícios de fortalecimento muscular.
- e) Promover o bem-estar emocional e mental do paciente. Adaptação do ambiente e uso de dispositivos auxiliares.

48. Na terapia ocupacional a prescrição para doenças neurológicas comuns é personalizada e baseada nas necessidades específicas de cada paciente. Desta forma, quais dessas são abordagens gerais que podem ser consideradas para diferentes condições neurológicas?

- a) Avaliação funcional, abordagem única e exercícios intensivos sem prescrição.
- b) Utilização de tecnologia assistiva, manejo de estresse, ansiedade e isolamento do paciente.
- c) Abordagens que causam desconforto ou estresse adicional, aplicar técnica sem feedback do paciente, educação do paciente e cuidadores.
- d) Estimulação cognitiva, educação do paciente, cuidadores e avaliação funcional.
- e) Desconsiderar fatores psicossociais, treinamento de marcha, mobilidade e promoção excessiva da independência.

49. Quando se trata de avaliação de riscos e promoção da funcionalidade em idosos, qual é o papel da terapia ocupacional na prevenção do envelhecimento?

- a) Ressaltar apenas na reabilitação pós-lesão.
- b) Concentrar-se apenas nas atividades diárias e deixar para depois avaliações de risco.
- c) Realizar avaliações abrangentes de riscos ambientais e funcionais.
- d) Limitar as intervenções à fisioterapia.
- e) Excluir a participação ativa dos idosos nas decisões sobre a avaliação.

50. Lucas tem 45 anos, trabalha de home office em um escritório. Ele teve uma lesão no punho direito por conta do esforço repetitivo no trabalho. Teve relato de dor no punho direito há cerca de 3 meses, inicialmente foi leve, aos poucos foi complicando, afetando no cotidiano, no home office para o que exige o uso da mão direita. Lucas foi ao médico, não teve sinal de inchaço ou vermelhidão, palpação no punho direito, principalmente ao redor do tendão do carpo, sendo assim, teve diagnóstico com síndrome do túnel do carpo, que se é causado por executar movimentos repetitivos com a mão. No caso de Lucas, para seu tratamento o que se torna os principais objetivos?

- a) Aliviar a dor no punho e restaurar a função do punho.
- b) Restaurar a função do punho e melhorar a circulação sanguínea.
- c) Prevenir futuras lesões e instruir sobre pausas para descanso do punho.
- d) Melhorar a circulação sanguínea e aliviar a dor no punho.
- e) Aliviar a dor no punho e prevenir futuras lesões.

RASCUNHO.